


Imię i nazwisko ucznia

Klasa

Wypełnia
nauczyciel



Numer
ucznia
w dzienniku



OGÓLNOPOLSKI SPRAWDZIAN KOMPETENCJI TRZECIOKLASISTY

„Wielki kłopot”

2014

TEST Z MATEMATYKI

Czas pracy: 45 minut

Liczba punktów do uzyskania: 20

Instrukcja dla ucznia

1. Upewnij się, czy sprawdzian zawiera 8 stron. Jeśli brakuje stron, powiedz o tym nauczycielowi.
2. Na tej stronie u góry wpisz swoje imię i nazwisko oraz klasę.
3. Czytaj uważnie zadania.
4. Rozwiązania zapisuj długopisem lub piórem. Nie używaj korektora.
5. W zadaniach od 1. do 10. są podane trzy odpowiedzi: A, B, C. Tylko jedna z nich jest poprawna. Wybierz ją i zaznacz krzyżykiem w odpowiedniej kratce, na przykład gdy wybierasz odpowiedź „A”:
 A. B. C.
6. Jeśli się pomylisz, błędne zaznaczenie otocz kółkiem i zaznacz inną odpowiedź krzyżykiem.
 A. B. C.
7. Rozwiązania zadań od 11. do 14. zapisz czytelnie i starannie w wyznaczonych miejscach. Pomyłki przekreślaj.
8. Dwie ostatnie strony arkusza są przeznaczone na brudnopis. Zapisy w brudnopisie nie będą sprawdzane.

Powodzenia!

W zadaniach od 1. do 10. zaznacz tylko jedną odpowiedź.

1. Słoń Dominik policzył wszystkie naczynia w kredensie. Wie, że jest w nim 35 talerzy i 16 filiżanek. O ile więcej jest talerzy niż filiżanek?

- A. o 21
- B. o 19
- C. o 17

2. Pinio poznał w szkole znaki rzymskie i pokazał je Dominikowi. „Najbardziej nie lubię cyfry IX, bo o tej godzinie Pinio wychodzi do szkoły i zostaje sam” – pomyślał Dominik. O której godzinie Pinio wychodzi do szkoły?

- A. o dziewiątej
- B. o dziesiątej
- C. o jedenastej

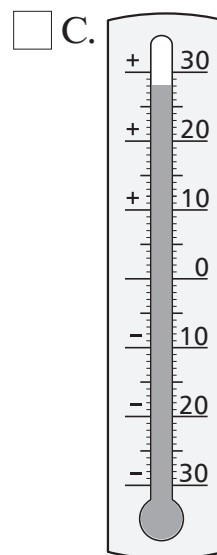
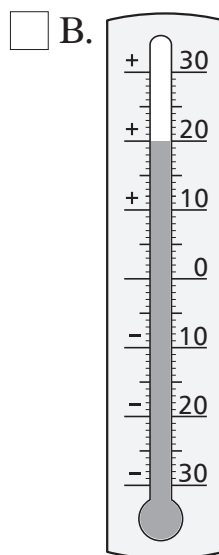
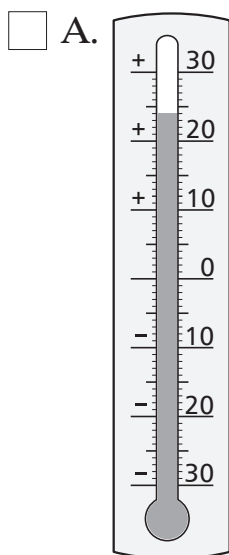
3. Pinio interesuje się słońmi żyjącymi w Afryce. Wie, że długość ciała dorosłego słonia wynosi 6 metrów. Ile metrów ścieżki prowadzącej do wodopoju zajmuje 7 słoń stojących jeden za drugim?

- A. 35 m
- B. 42 m
- C. 49 m

4. Słoń z pewnego afrykańskiego stada zjadł 25 kg owoców, 40 kg liści i 22 kg trawy. Słonica zjadła tyle samo owoców, co słoń oraz 35 kg liści i 27 kg trawy. Zaznacz prawdziwe stwierdzenie.

- A. Słonica zjadła więcej kilogramów pożywienia niż słoń.
- B. Oba zwierzęta zjadły tyle samo kilogramów pożywienia.
- C. Słoń zjadł więcej kilogramów pożywienia niż słonica.

5. Dominik obejrzał prognozę pogody. Dowiedział się, że w środę temperatura powietrza ma wynosić 24 stopnie powyżej zera, a w czwartek ma być o 4 stopnie więcej. Zaznacz termometr wskazujący temperaturę, która ma być w czwartek.



6. Zwykłe porcelanowe słonie są dużo mniejsze od Dominika. W sklepie były 3 takie słonie. Jeden ważył 35 dekagramów, drugi był o 15 dekagramów lżejszy, a trzeci ważył 40 dekagramów. Ile ważyły razem?

- A. 95 dag
 B. 90 dag
 C. 85 dag

7. Dominik ciągle się powiększał, więc we wtorek 8 kwietnia z kuchni wyniesiono stół, a dwa tygodnie później – kredens. W którym dniu wyniesiono kredens?

- A. 15 kwietnia
 B. 22 kwietnia
 C. 29 kwietnia




A calendar for April 2014. The days of the week are abbreviated as Pn., Wt., Śr., Czw., Pi., Sob., Niedz. The dates are arranged in a grid.

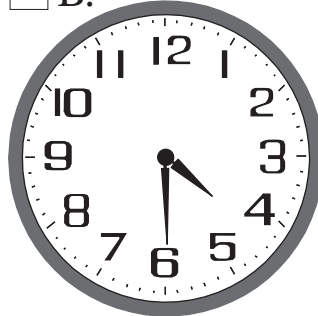
Kwiecień 2014						
Pn.	Wt.	Śr.	Czw.	Pi.	Sob.	Niedz.
	1	2	3	4	5	6
7	8	9	10	11	12	13
14	15	16	17	18	19	20
21	22	23	24	25	26	27
28	29	30				

8. Naradę rodzinną w sprawie Dominika zakończono o godzinie 17.30. Rozpoczęto ją godzinę i trzydzieści minut wcześniej. Zaznacz zegar, który pokazuje godzinę rozpoczęcia narady.


A.



B.



C.



9. Pod dom, w którym mieszkał Dominik, zajęchały 4 wozy straży pożarnej. W każdym wozie jechało po tyle samo strażaków. Gdy wysiedli, okazało się, że jest ich aż 20. Ilu strażaków jechało w każdym wozie?

A. dwudziestu

B. czterech

C. pięciu

10. Tata zapytał komendanta strażaków: „Ile czasu potrwa wynoszenie Dominika z kuchni?”. „Myślę, że 2 kwadransy” – odpowiedział komendant. Ile to jest minut?

A. 30 minut

B. 15 minut

C. 20 minut

11. Wynoszenie Dominika z domu obserwowali zgromadzeni w pobliżu ludzie. Było tam 9 dziewczynek, 13 chłopców, 5 pań i tylu panów, ilu było chłopców. Uzupełnij właściwą liczbą zdanie, które wypowiedział Pinio.


Aż

 ludzi przygląda się pracy strażaków.

Brudnopis

A large grid of graph paper, consisting of 20 columns and 30 rows of small squares, intended for writing a rough draft.

Brudnopis



A large grid of graph paper for writing, consisting of 25 columns and 30 rows of small squares.