


Imię i nazwisko ucznia .....

Klasa .....

Wypełnia  
nauczyciel



Numer  
ucznia  
w dzienniku



# OGÓLNOPOLSKI SPRAWDZIAN KOMPETENCJI TRZECIOKLASISTY

„Franek czyta”

2015

TEST Z MATEMATYKI

Czas pracy: 45 minut

Liczba punktów do uzyskania: 20

## Instrukcja dla ucznia

1. Upewnij się, czy sprawdzian zawiera 8 stron. Jeśli brakuje stron, powiedz o tym nauczycielowi.
2. Na tej stronie u góry wpisz swoje imię i nazwisko oraz klasę.
3. Czytaj uważnie zadania.
4. Rozwiązania zapisuj długopisem lub piórem. Nie używaj korektora.
5. W zadaniach od 1. do 10. są podane trzy odpowiedzi: A, B, C. Tylko jedna z nich jest poprawna. Wybierz ją i zaznacz krzyżykiem w odpowiedniej kratce, na przykład gdy wybierasz odpowiedź „A”:  
 A.    B.    C.
6. Jeśli się pomylisz, błędne zaznaczenie otocz kółkiem i zaznacz inną odpowiedź krzyżykiem.  
 A.    B.    C.
7. Rozwiązania zadań od 11. do 14. zapisz czytelnie i starannie w wyznaczonych miejscach. Pomyłki przekreślaj.
8. Dwie ostatnie strony arkusza są przeznaczone na brudnopis. Zapisy w brudnopisie nie będą sprawdzane.

***Powodzenia!***

Arkuszy opracowany przez OPERON.

Kopiowanie w całości lub we fragmentach bez zgody wydawcy zabronione. Wydawca zezwala na kopiowanie zadań przez dyrektorów szkół biorących udział w programie Ogólnopolski Sprawdzian Kompetencji Trzecioklasisty z OPERONEM.

**W zadaniach od 1. do 10. zaznacz tylko jedną odpowiedź.**

**1. Pierwszy rozdział książki, którą czyta Franek, ma 34 strony, a drugi – tylko 17 stron. O ile mniej stron ma drugi rozdział książki?**

- A. o 16
- B. o 17
- C. o 18

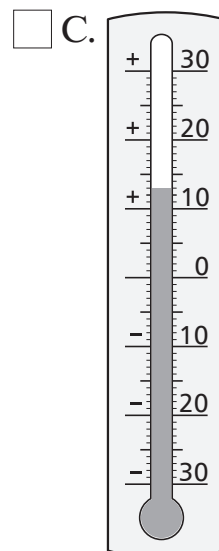
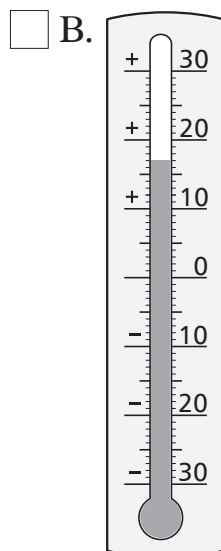
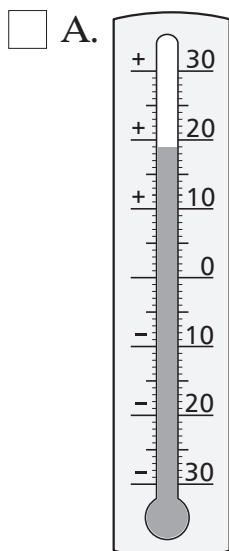
**2. Mama Franka czyta wieczorami książkę Adama Mickiewicza pt. „Pan Tadeusz”. Książka składa się z dwunastu części, nazwanych przez autora księgami. Mama czyta IX księgę. Która księga będzie następna?**

- A. dziesiąta
- B. dwunasta
- C. ósma

**3. Odkąd Franek polubił czytanie, czyta codziennie przed snem 8 stron książki. Ile stron przeczytał Franek w ciągu 6 dni?**

- A. 40 stron
- B. 42 strony
- C. 48 stron

4. W czwartek wieczorem mama Franka powiedziała: „Franku, robi się coraz chłodniej, więc jutro załóż bluzę. Dziś jest 17 stopni, a jutro ma być o kilka stopni mniej”. Który termometr pokazuje temperaturę powietrza, jaka może być w piątek?



5. Uczniowie ze szkoły Franka chętnie zbierają makulaturę, gdyż wiedzą, że produkuje się z niej nowy papier. W maju klasa IIIa zebrała 36 kg makulatury, klasa IIIb – 38 kg, a klasa IIIc – 25 kg. Pani dyrektor ogłosiła na apelu: „Klasy trzecie zebrały w maju razem...

- A. 89 kg makulatury”.
- B. 99 kg makulatury”.
- C. 100 kg makulatury”.

6. Pani bibliotekarka policzyła, że uczniowie z klasy IIIa przeczytali 34 książki z wierszami, 27 książek przyrodniczych i 39 książek z opowiadaniem. Uczniowie klasy IIIb, do której chodzi Franek, przeczytali o 4 książki z wierszami więcej niż uczniowie z klasy IIIa, 25 książek przyrodniczych i 37 książek z opowiadaniem. Która klasa przeczytała więcej książek?

- A. Więcej książek przeczytała klasa IIIb.
- B. Klasy IIIa i IIIb przeczytały tyle samo książek.
- C. Więcej książek przeczytała klasa IIIa.


7. Franek skończył czytać „Dzieci z Bullerbyn” w niedzielę 3 maja. Czytanie tej książki zajęło mu trzy tygodnie. Kiedy Franek zaczął czytać lekturę?



- A. 19 kwietnia
- B. 12 kwietnia
- C. 5 kwietnia

8. Wieczorem tata czytał Piotrusiowi bajkę. Rozpoczął czytanie o godzinie 20.00, a skończył o godzinie, którą pokazuje zegar. Przez ile minut tata czytał synkowi bajkę?

- A. 60 minut
- B. 35 minut
- C. 15 minut



9. Piotrek ma 27 książek z bajkami. Chce ułożyć je na trzech półkach tak, żeby na każdej półce było po tyle samo książek. Po ile książek powinien ustawić na każdej półce?

- A. po 7
- B. po 8
- C. po 9





## Brudnopis

A large grid of graph paper for writing, consisting of 20 columns and 30 rows of small squares.

## Brudnopis

A large grid of graph paper for writing, consisting of 20 columns and 30 rows of small squares.