


Imię i nazwisko ucznia

Klasa



Numer
ucznia
w dzienniku

**OGÓLNOPOLSKI
SPRAWDZIAN KOMPETENCJI
TRZECIOKLASISTY
2009**

**Czas pracy: 2 razy po 45 minut
Liczba punktów do uzyskania: 40**

Instrukcja dla ucznia

1. Upewnij się, czy sprawdzian zawiera 12 stron. Jeśli brakuje stron, powiedz o tym nauczycielowi.
2. Na tej stronie u góry wpisz swoje imię i nazwisko oraz klasę.
3. Czytaj uważnie wszystkie teksty i zadania.
4. Rozwiązania zapisuj długopisem lub piórem. Nie używaj korektora.
5. W zadaniach od 1. do 20. są podane trzy odpowiedzi: A, B, C. Tylko jedna z nich jest poprawna. Wybierz ją i zaznacz krzyżykiem w odpowiedniej kratce, na przykład gdy wybrałeś odpowiedź „A”:
 A. B. C.
6. Jeśli się pomylisz, błędne zaznaczenie otocz kółkiem i zaznacz inną odpowiedź krzyżykiem.
 A. B. C.
7. Rozwiązania zadań od 21. do 25. zapisz czytelnie i starannie w wyznaczonych miejscach. Pomyłki przekreślaj.
8. Dwie ostatnie strony arkusza są przeznaczone na brudnopis. Zapisy w brudnopisie nie będą sprawdzane.

Powodzenia!

Przeczytaj uważnie tekst.

Balbina urodziła szczeniaki. [...]

– Tato, jak się urodzi pięć jednocześnie, to są pięcioraczki, prawda?

– upewnił się Karol, ale Karolina zaraz go poprawiła:

– Nie żadne raczki, tylko psiaczki. Nie widzisz, że to są pięciopsiaczki?

– Pięciopsiaczki! – ucieszyli się babcia i tata. – Bardzo to ładnie wymyśliłaś. [...]

– Trzeba pomyśleć o tym, żeby je oddać w dobre ręce – powiedziała mama, a Karol od razu zaczął liczyć:

– Jedna pani mówiła, że za swojego psa zapłaciła tysiąc złotych. Więc jakbyśmy sprzedali wszystkie pięć...

[...] Tata jakoś tak dziwnie popatrzył na Karola.

– Chcesz handlować psami?

– No! – potwierdził Karol. – Ja już nawet mówiłem chłopakom na podwórku i Romek Paździorek powiedział, że jego rodzice na pewno się zgodzą na kupienie psa.

– Ale twoi nie zgadzają się na sprzedanie – przerwał mu tata. – Słyszałeś, co mówiła mama? Pięciopsiaczki trzeba oddać w dobre ręce.

– A Romek Paździorek ma złe! – poskarżyła się prędko Karolina. – On mnie zawsze szczypie! Szcypawa taka! Prawda, że my mu nie oddamy żadnego pieska? Oj, nie oddawajmy, tatusiu, nie oddawajmy! Nikomu nie oddawajmy!

I rozplakała się. I wcale nie chciała słuchać tłumaczeń taty, że sześć psów w domu to naprawdę za dużo.

– Jedni mają za dużo, a inni wcale. Na przykład pani Wiśniewska...

– zamyśliła się babcia i popatrzyła przez okno na kiosk z gazetami.

Pani Wiśniewska układała w kiosku gazety. [...] Karolina wytarła nos. Stała obok babci i myśli: „Pani Wiśniewska ma naprawdę dobre ręce. Zawsze głaszcze Balbinę i zrobiła dla niej serdaczek na drutach, i tak ładnie układa w kiosku <<Misie>>... Więc może dobrze będzie w dobre ręce pani Wiśniewskiej oddać tego małego, kudłatego pieska, który jest podobny do niedźwiadka?”.

Wanda Chotomska, „Pięciopsiaczki”

**Po przeczytaniu tekstu rozwiąż zadania.
W każdym zadaniu zaznacz tylko jedną odpowiedź.**

1. Ile psów było w domu po urodzeniu się szceniąt?

- A. sześć
- B. pięć
- C. siedem

2. Jaką nazwę Karolina wymyśliła dla szceniąt?

- A. pięcioraczki
- B. pięciossaczki
- C. pięciopsiaczki

3. Komu na pewno spodobała się nazwa „pięciopsiaczki”?

- A. mamie i babci
- B. babci i tacie
- C. tacie i mamie

4. Ile szceniąt urodzonych przez Balbinę było kudłatych?

- A. ani jedno
- B. co najmniej jedno
- C. nie wiadomo

5. Co Karol chciał zrobić ze szceniętami?

- A. oddać w dobre ręce
- B. pozostawić w domu
- C. sprzedać

6. Oddać szczenię w dobre ręce, to znaczy dać je komuś, kto:

- A. zna się na rasach psów.
- B. bardzo chce mieć psa.
- C. dobrze się nim zaopiekuje.

7. Dlaczego tata dziwnie popatrzył na Karola?

- A. Spodobał mu się pomysł syna.
- B. Nie spodobał mu się pomysł syna.
- C. Rozśmieszył go pomysł syna.

8. Komu Karolina zgodziłaby się oddać szczenię?

- A. Romkowi Paździorowi
- B. babci
- C. pani Wiśniewskiej

9. Pięciopsiaczki urodziły się 1 kwietnia. Kiedy skończyły sześć tygodni? Skorzystaj z kartek kalendarza.

Kwiecień						
Pn	Wt	Śr	Cz	Pt	So	N
		1	2	3	4	5
6	7	8	9	10	11	12
13	14	15	16	17	18	19
20	21	22	23	24	25	26
27	28	29	30			

Maj						
Pn	Wt	Śr	Cz	Pt	So	N
				1	2	3
4	5	6	7	8	9	10
11	12	13	14	15	16	17
18	19	20	21	22	23	24
25	26	27	28	29	30	31




- A. 29 kwietnia
- B. 5 maja
- C. 13 maja

10. Karolina przez dwa kwadranse przyglądała się zabawie szceniąt. Zaczęła obserwację o 13.00. O której skończyła?

A. o 13.45

B. o 13.30

C. o 13.15



11. Psy nie są:

A. ssakami.

B. ptakami.

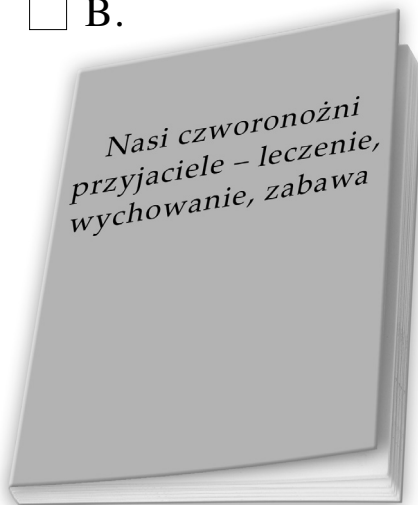
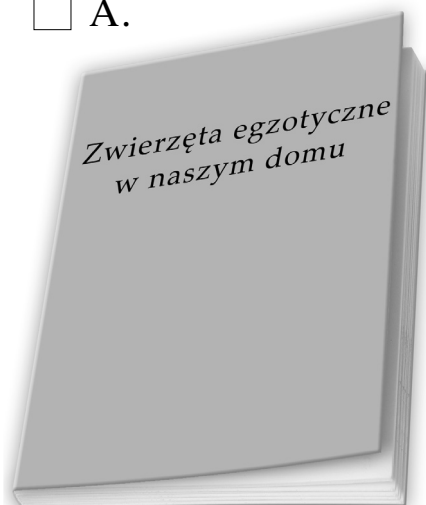
C. zwierzętami.

12. Karolina chce się dowiedzieć, jak należy opiekować się pięciopsiaczkami. W której książce powinna poszukać informacji?

A.

B.

C.



13. Karolina chce znaleźć w encyklopedii informacje o Wandzie Chotomskiej, autorce tekstu „Pięciopsiaczki”. Pod którą literą znajdzie informacje o tej autorce?

- A. „C”
- B. „G”
- C. „W”

14. Karol postanowił napisać historyjkę o szczeniętach. Na kartce zapisał wyrazy, których chciał użyć w opowiadaniu. Zaznacz spis, w którym są tylko czasowniki.

- A. szczeka, pilnowała, piłeczka, urodziły się, zapiszczał, śpi, wyszły
- B. biegają, skacze, gryzł, mądry, pije, podskakują, ssie
- C. gonią się, odpoczywają, lubi, jedzą, zeskakuje, urosły, zaglądały

15. Wybierz odpowiednie zakończenie zdania: „Karolina jest młodszą od Karola o trzy lata, więc:

- A. Karol i Karolina są rodzeństwem”.
- B. Karol jest starszy od Karoliny o pięć lat”.
- C. Karol jest starszy od siostry o trzy lata”.

16. Być czyimś rówieśnikiem, to znaczy mieć tyle samo lat. Rówieśnikami mogą być:

- A. mama i tata.
- B. babcia i mama.
- C. tata i Karolina.

17. Ile nóg mają razem pięciopsiaczki i ich mama Balbina? Oblicz w pamięci lub zapisz obliczenia w brudnopisie.

- A. 24
- B. 25
- C. 20

18. Karolina i Karol poszli do sklepu po karmę dla szczeniąt. Na co koniecznie powinni zwrócić uwagę, aby dokonać dobrego zakupu? Wybierz spis, w którym podano tylko to, co naprawdę jest ważne.

- A. cena, kolor opakowania, data produkcji, skład produktu, przeznaczenie produktu, bezpłatny dodatek – maskotka dla szczeniaka, szczelne opakowanie
- B. skład produktu, przeznaczenie produktu, data produkcji, data przydatności do spożycia, cena, szczelne opakowanie
- C. skład produktu, data produkcji, naklejka do kolekcji, data przydatności do spożycia, cena, opakowanie z wygodnym uchwytem

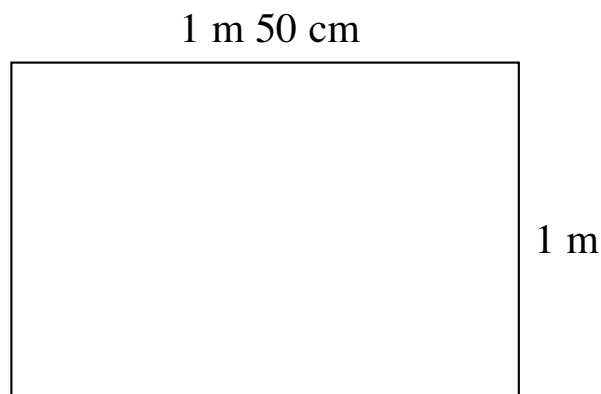
19. Tata Karoliny ma kolegę zwanego Ojbolkiem, który leczy tylko zwierzęta. Kim na pewno nie jest kolega taty Karoliny?

- A. lekarzem weterynarii
- B. lekarzem pediatrą
- C. przyjacielem zwierząt


20. Szczenięta muszą otrzymać szczepionkę przeciwko chorobom zakaźnym. Do lecznicy pana Ojbolka jest cztery i pół kilometra. Tata zawiezie tam pięciopsiaczki samochodem, a potem przywiezie je do domu. Jakiej długości drogę pokonają w obie strony? Oblicz w pamięci lub zapisz obliczenia w brudnopisie.

- A. 9000 m
- B. 1000 m
- C. 4500 m

22. Kojec, czyli ogrodzenie dla szczeniąt Balbiny, ma kształt prostokąta o wymiarach podanych na rysunku.



Sprawdź, czy na budowę kojca wystarczyły tacie dwie jednakowe deski o łącznej długości 6 metrów. Zapisz wszystkie obliczenia i odpowiedź.



Odpowiedź:

.....

.....

23. Balbinę należy wyprowadzać na spacer cztery razy dziennie. Ile razy Balbina będzie na spacerze w ciągu dziewięciu dni? Oblicz w pamięci i zapisz odpowiedź w formie zdania.

Odpowiedź:

.....

.....

Brudnopis



Brudnopis

A large grid of graph paper for writing, consisting of 20 columns and 30 rows of small squares.